






Nom Prénom..... Adresse :
 Téléphone ou adresse mail :

« Je connais ou je découvre Crécy-la-Chapelle »

1^{ère} étape : le territoire

	Questions	Réponses possibles	Votre choix	
1	Si vous résidez à l'entrée ouest de Crécy-la-Chapelle (rue Sinoël à Montbarbin) et voulez vous rendre à Montaudier-le-Haut, quelle distance parcourez-vous ?	A – 4,8 km B – 7,9 km C – 7 km		
2	A combien s'élève le nombre d'habitants pris en compte officiellement en janvier 2021 ?	A – 5109 B – 4735 C – 5510		
3	Où se situe le point culminant de la commune (soit 156m) ?	A – à l'Est de Mongrolle (plaine de Roise) B – à Montpichet (golf) C – sur les hauteurs de Montbarbin D – au Nord-Est de Férolles, en limite du territoire de Sancy-les-Meaux		
4	Sur notre territoire, la rivière « grand Morin » coule globalement :	A – de l'Est vers l'Ouest B – de l'Ouest vers l'Est C – du Sud vers le Nord, puis de l'est vers l'ouest D – du Sud vers le Nord		
5	Où se situe le territoire communal ?	A – uniquement sur la rive gauche du Grand Morin B – sur la rive droite et sur la rive gauche C – uniquement sur la rive droite du Grand Morin		
6	Où se situe I -Le chemin de la messe II- le bois des Glands III – les Chanterennes	A – Férolles B – Serbonne C – Mongrolle	I + II + III +	
7	Combien de communes sont-elles contiguës à Crécy-la-Chapelle ?	A – 6 B – 8 C – 7		
8	La forêt de Crécy fait-elle partie du territoire communal ?	A – oui B – non		
9	Comment s'appelle la voie qui marque la limite entre Crécy-la-Chapelle et Maisoncelles/Sancy-les Meaux ?	A – Chemin de Meaux B – Chemin Parré C – Route Royale		
10	Les classements de zones de notre commune :	A – commune du futur PNR Brie et 2 Morin B – site classé « Vallée du Grand Morin » C – deux sites « espaces naturels sensibles »		
11	Le nombre de marches entre la rue des Baulnes et Férolles est de	A – 305 B – 295 C – 303		

12		Quel est le nom de ce moulin ?	A – Moulin Nicole B – Moulin de Saint Martin C – Moulin Jaune D – Moulin Guillaume		
13		Cet abreuvoir se situe près d'un lavoir... où ?	A – à la Grand Cour B – à Serbonne C – à Montbarbin		
14		Quelle est la bonne réponse ?	A – le puits de la ferme à Serbonne B – le puits St Jean à La Chapelle C – le puits du Choisel à Libernon		
15		Où se trouve cette croix ?	A – place Saint Fiacre à Mongrolle B – rue de la Croix des Agneaux à Bel Air C – impasse de l'Hôtel Dieu à La Chapelle D – carrefour du Paradis à Montbarbin		
16	A quelle communauté d'agglomération notre ville est-elle rattachée ?		A – au Pays de Meaux B – à Val d'Europe Agglomération C – à Coulommiers Pays de Brie		
17	Laquelle de ces rues n'a jamais existé ?		A – la ruelle des soupirs B – la ruelle des lavandières C – la ruelle des brebis D – la ruelle aux loups		
18		Où se trouve ce symbole ?	A – sur la mairie de La Chapelle B – sur une maison à Montbarbin C – sur un des monuments aux morts D – en dessous d'un toit rue Serret		
19	Lequel de ces rus n'est pas Créçois ?		A – Ru de la fosse aux coqs B – Ru de la Biche C – Ru de Misère		
20	Le GR1, l'un des plus anciens sentiers de grande randonnée de toute la France (son balisage a débuté dès 1947) est connu sous l'appellation « Tour de Paris ». Il passe par Férolles, La Chapelle et Serbonne.		A – vrai B – faux		
	